


**JEUX**

Il faut dessiner la partie manquante symétrique à la première. Puis mettez un peu de couleurs....



**Pouvez-vous trouver le 6 en moins de 20 secondes?**



**PARTAGEZ si vous le voyez**

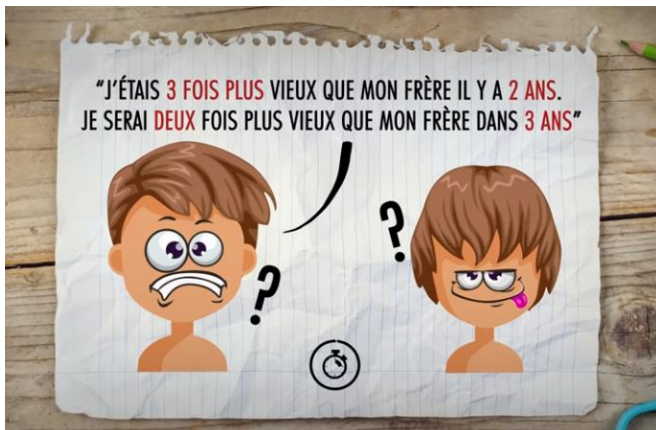
**SEULEMENT POUR LES GÉNIES :-)**

SI : **2 = 6**  
**3 = 12**  
**4 = 20**  
**5 = 30**  
**6 = 42**  
 ALORS : **9 = ??**

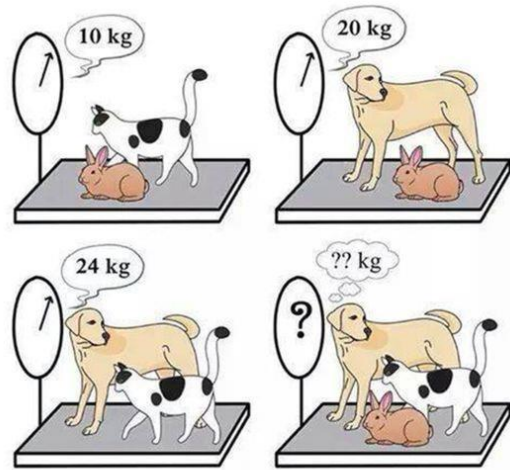


**LEQUEL DE CES VERRES A LE PLUS D'EAU ?**





Quel est mon âge et celui de mon frère ?



Combien pèsent les trois animaux ?



Je suis à la fin du matin  
 Au début de la nuit ;  
 Au milieu de la journée ;  
 Absent du midi ;  
 Deux fois dans l'année ;  
 Qui suis-je ?

seulement pour les génies? 💡

$1 + 4 = 5$   
 $2 + 5 = 12$   
 $3 + 6 = 21$   
 $5 + 8 = ?$

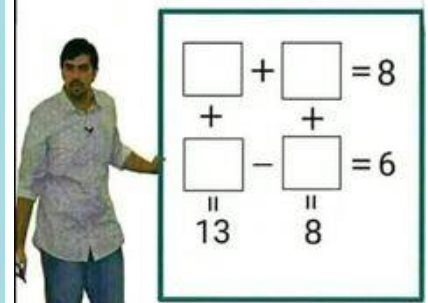
L'une de ces deux montres est réelle,  
 l'autre est un jouet. Saurais-tu  
 deviner laquelle est la vraie ?



Lequel d'entre eux est gaucher ?



Qui parviendra à remplir ces 4 caisses est un génie...



On peut utiliser des nombres  
 avec des virgules .....